

**Test**  
**na přezkoušení uchazeče**  
**pro získání kvalifikace pro vydání prvního rybářského lístku**  
**a přijetí za člena ČRS**



---

**Test č.3**

---

Tento test je určen organizačním jednotkám Českého rybářského svazu na přezkoušení uchazečů pro získání kvalifikace pro vydání prvního rybářského lístku ve smyslu § 10 odst. 3 vyhlášky č. 197/2004 Sb., v platném znění k zákonu o rybářství č. 99/2004 Sb. a zároveň žadatelů o přijetí za člena ČRS. Test obsahuje 25 otázek. Pro úspěšné absolvování testu musí uchazeč zodpovědět minimálně 13 otázek z 25. Každá z otázek nabízí tři možné odpovědi, ale pouze jedna je správná. Otázky pro test jsou z těchto základních okruhů témat (dle přílohy č. 6 oddílu III vyhlášky č. 197/2004 Sb., v platném znění):

1. Základní znalosti z poznání ryb a vodních organismů.
2. Základní znalosti z biologie ryb a vodních organismů.
3. Základní znalosti způsobů lovu ryb.
4. Základní znalosti o rybářském hospodaření v rybářských revírech.
5. Základní znalosti zákona č. 99/2004 Sb., o rybníkářství, výkonu rybářského práva, rybářské strážní, ochraně mořských rybolovných zdrojů a o změně některých zákonů (zákon o rybářství), jeho prováděcí vyhlášky č. 197/2004 Sb., v platném znění a Stanov ČRS (Stanovy ČRS nejsou součástí přílohy č. 6 oddílu III vyhlášky č. 197/2004 Sb., v platném znění).

Oprávněním k zabezpečení výuky, přezkoušení a vystavení osvědčení o získání kvalifikačních předpokladů pro vydání prvního rybářského lístku byl pověřen ČRS na základě rozhodnutí MZe ČR z 14. října 2020 č.j.: 53744/2020-MZE-16232.

Elektronickou podobu testu najdete na oficiálních internetových stránkách Českého rybářského svazu [www.rybsvaz.cz](http://www.rybsvaz.cz).

---

Název pořadatele: .....

Adresa: .....

IČ: .....

Titul, jméno, příjmení uchazeče: .....

Místo trvalého pobytu: .....

Datum narození: .....

Místo narození: .....

Počet správných odpovědí: .....

Počet špatných odpovědí: .....

Vyhodnocení (prospěl – neprospěl): .....

.....

Podpis uchazeče

.....

Podpis a razítko pořadatele


V .....

dne: .....

---


**1. O jaký druh ryby se jedná?**

- a)  kapr obecný
- b)  štika obecná
- c)  lín obecný




**2. O jaký druh ryby se jedná?**

- a)  jelec tloušť
- b)  plotice obecná
- c)  pstruh duhový



**3. O jaký druh ryby se jedná?**

- a)  plotice obecná
- b)  perlín ostrobřichý
- c)  kapr obecný



**4. O jaký druh ryby se jedná?**

- a)  sumeček americký
- b)  sumec velký
- c)  mřenka mramorovaná



**5. O jaký druh živočicha se jedná?**

- a)  volavka popelavá
- b)  potápka roháč
- c)  čáp bílý



**6. O jaký druh živočicha se jedná?**

- a)  mlok skvrnitý
- b)  skokan hnědý
- c)  ropucha obecná



**7. Co je to inkubace jiker?**

- a)  období vývoje zárodku v jikře
  - b)  vývoj jiker ve vaječnicích jikernaček
  - c)  kulení plůdku z jiker
-

**8. Kolik komor a předsíní má rybí srdce?**

- a)  1 + 1
- b)  1 + 2
- c)  2 + 2

**9. Zelené vodní rostliny vyrábějí kyslík:**

- a)  jen ve dne
- b)  jen v noci
- c)  ani ve dne, ani v noci

**10. Lov čeřínkováním je:**

- a)  lov vodorovnou sítí o maximální ploše 1 m<sup>2</sup>
- b)  lov na umělou mušku
- c)  lov při kterém se použijí nejvýše 2 udice s nástrahou, která může být v pohybu nebo i v klidu nastavena v libovolné výšce vodního sloupce

**11. Musí mít osoba provádějící lov u sebe vyprošťovač háčků?**

- a)  ne
- b)  pouze na údolních nádržích
- c)  ano

**12. Při lovu na plavanou nebo položenou v rybářských revírech pstruhových smí lovíci používat nejvýše:**

- a)  2 udice, u každé z nich nejvýše dva návazce s jednoduchými háčky, dvojháčky nebo trojháčky
- b)  2 udice, u každé z nich nejvýše jeden návazec s jednoduchým háčkem
- c)  2 udice, u každé z nich nejvýše dva návazce s jednoduchými háčky

**13. Co je to pH?**

- a)  kyselost vody
  - b)  průhlednost vody
  - c)  hodnota vodivosti vody
-

**14. Jak rozdělujeme rybí pásma na vodních tocích?**

- a)  pstruhové, lipanové, parmové a cejnové
- b)  pstruhové, lipanové, kaprové a cejnové
- c)  pstruhové, parmové, kaprové a cejnové

**15. V případě, že byla příslušným rybářským orgánem udělena výjimka k lovu ryb pomocí elektrického proudu, je tento lov povolen**

- a)  pouze při splnění bezpečnostních předpisů. Osoby obsluhující elektrické zařízení musí mít u sebe povolení k takovému lovu a doklady opravňující k použití
- b)  pouze v chráněné rybí oblasti osobám stanoveným uživatelem revíru či rybníkářem, pokud loví ryby a jiné vodní organismy pro potřeby hospodářské těžby, či umělého
- c)  pouze k vědeckým účelům, a to jen osobám s kvalifikací odborné způsobilosti v elektrotechnice, pokud k tomu byly zmocněny místně příslušným krajským úřadem

**16. Lov lososovitých ryb v pstruhových rybářských revírech je povolen pouze:**

- a)  přívlačí a na umělou mušku
- b)  muškařením, na umělou mušku a přívlačí
- c)  muškařením a přívlačí

**17. Mohu chytat nástražní rybičky do čerenu na pstruhovém revíru před 15. dubnem?**

- a)  ano
- b)  jen do hmotnosti 7 kg
- c)  ne

**18. Kolikrát týdně mohu lovit čeřínkováním nástražní rybky na mimopstruhovém revíru?**

- a)  3 x
- b)  4 x
- c)  neomezeně

**19. Lov čeřínkováním se**

- a)  nesmí kombinovat s jiným způsobem lovu
  - b)  smí kombinovat s lovem na plavanou
  - c)  nesmí kombinovat s lovem přívlačí
-

**20. Trestného činu pytláctví se dopustí ten, kdo:**

- a)  neoprávněně loví zvěř nebo ryby, nebo ukryje, na sebe nebo jiného převede, nebo přechovává zvěř nebo ryby neoprávněně ulovené
- b)  uloví a ponechá si rybu nebo ryby, které nedosahují stanovené nejmenší délky, byť je držitelem povolenky k lovu ryb na příslušný revír
- c)  neoprávněně zasáhne do výkonu rybářského práva a spáchá takový čin hromadně účinným nebo zvláště zavrženíhodným způsobem

**21. Jaká je nejmenší lovná míra sivena amerického?**

- a)  25 cm
- b)  30 cm
- c)  35 cm

**22. Denní doby lovu ryb v mimopstruhovém rybářském revíru jsou v květnu, červnu, červenci a srpnu:**

- a)  od 4 do 24 hodin
- b)  od 3 do 24 hodin
- c)  od 3 do 22 hodin

**23. Kdy je v mimopstruhových rybářských revírech povolen lov čeřínkováním?**

- a)  od 16. června do 31. prosince
- b)  od 1. června do 31. prosince
- c)  od 16. dubna do 31. prosince

**24. Rybářskou stráží může být ustanovena osoba, která:**

- a)  má způsobilost k právním úkonům
- b)  nemá způsobilost k právním úkonům, avšak má ustanoveného opatrovníka
- c)  je omezena ve způsobilosti k právním úkonům

**25. Jaká je struktura ČRS?**

- a)  místní organizace, územní svaz, Republiková rada
  - b)  místní organizace, územní rada, Republikový sněm
  - c)  místní skupiny, místní organizace, vyšší svazové orgány
-

**Správné odpovědi:**

1. a)
  2. a)
  3. b)
  4. a)
  5. a)
  6. c)
  7. a)
  8. a)
  9. a)
  10. a)
  11. c)
  12. c)
  13. a)
  14. a)
  15. a)
  16. a)
  17. c)
  18. c)
  19. a)
  20. a)
  21. a)
  22. a)
  23. a)
  24. a)
  25. a)
-